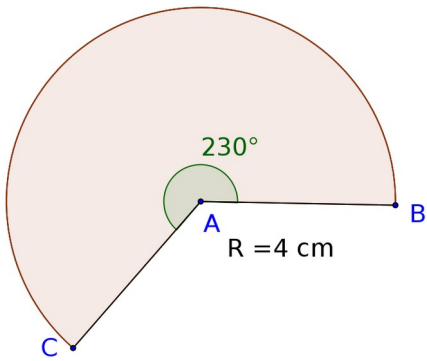
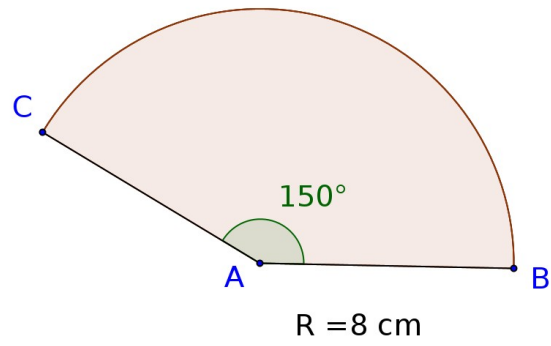
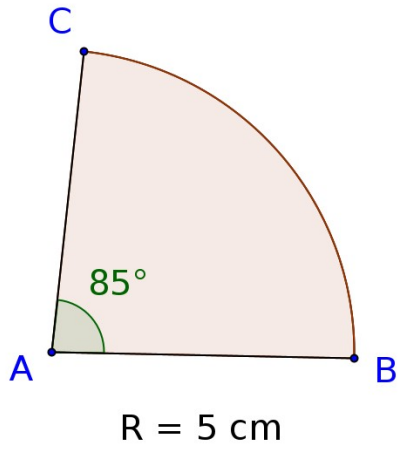


Subiecte Test

Pentru nota 5

1. Care este lungimea unui cerc cu raza 12 cm?
2. Care este aria unui cerc cu raza de 7 cm?
3. Care este raza unui cerc cu aria de 25π ?
4. Care este raza unui cerc cu lungimea de 18π ?
5. Ce lungime are un arc de 120^0 dacă raza cercului este de 6 cm?
6. Ce suprafață are un sector de cerc cu măsura de 150^0 dacă raza cercului este de 14 cm?

Aflati lungime arc si suprafata sectorului de cerc:



2. Aflati aria hașurată dacă latura pătratului este 12 cm.

